

**Комунальний вищий навчальний заклад
«Харківська академія неперервної освіти»**

**Завдання для II етапу Всеукраїнської учнівської олімпіади
з трудового навчання та технологій у 2024/2025 н. р.**

Обслуговуючі види праці




8-9 класи

I. Тестовий блок (20 балів)

Шифр _____

Набрано балів _____

№ з/п	Зміст завдання	Макс. к-сть балів	Відповідь	Набрані бали
1.	З чого розпочинається проектна діяльність? А) презентації та захисту проекту; Б) визначення послідовності технологічних операцій; В) визначення критеріїв, яким повинен відповідати майбутній виріб; Г) визначення розмірів і форми виробу.	1		
2.	Як необхідно передавати ножиці? А) кільцями вперед; Б) зімкненими лезами; В) розкритими лезами.	1		
3.	Під час якого етапу виготовлюється виріб? А) конструкторський; Б) організаційно-підготовчий; В) технологічний; Г) організаційно-підготовчий.	1		
4.	Оберіть інструменти і матеріали, які необхідні для вишивки: А) канва, муліне, ножиці, голка; Б) голка, пряжа, гачок, стрічка; В) тканина, ножиці, гачок, сантиметрова стрічка.	1		
5.	Які є види швів? А) бокові, з'єднувальні, декоративні; Б) крайові, бокові, центральні; В) бокові, з'єднувальні, декоративно-оздоблювальні.	2		
6.	Для чого використовують зметувальний шов?	2		

	<p>А) для тимчасового поєднання деталей виробу; Б) для декоративного оздоблення виробу; В) для поєднання деталей виробу.</p>			
7.	<p>Яку операцію зображено на малюнку?</p>  <p>А) зметування; Б) обметування; В) приметування.</p>	2		
8.	<p>На якому зображенні показано «не відбілювати»?</p> <p>А) </p> <p>Б) </p> <p>В) </p> <p>Г) </p>	2		
9.	<p>Для чого знімають мірку ШГ?</p> <p>А) для визначення довжини виробу; Б) для визначення ширини виробу; В) для визначення довжини поясу.</p>	2		
10.	<p>Що таке антропоморфний орнамент?</p> <p>А) орнамент, що складається із стилізованих зображень фігур людей; Б) орнамент, що складається із стилізованих зображень тварин; В) орнамент, що складається з геометричних елементів; Г) орнамент, що складається із стилізованих рослин.</p>	2		
11.	<p>Як називається машинна операція – з'єднання деталей, різних за розміром?</p> <p>А) зшивання; Б) пришивання; В) застрочування; Г) настрочування.</p>	2		

12.	Що таке апсайклінг? А) орнамент, що складається із геометричних форм; Б) творче перевтілення відходів у витвори мистецтва; В) тканина аплікація; Г) один із видів роботи з папером.	2		
-----	---	---	--	--

Комунальний вищий навчальний заклад
«Харківська академія неперервної освіти»

Завдання для II етапу Всеукраїнської учнівської олімпіади
з трудового навчання та технологій у 2024/2025 н. р.

Обслуговуючі види праці

8-9 класи

II. Практичний блок (60 балів)

Варіант 1 проведення II туру. В дистанційному форматі, коли учасники не мають доступу до шкільної майстерні та технічного обладнання.

№ ПОР.	Завдання	Максимальний бал
1.	Скласти технологічну карту виготовлення за власним задумом новорічного мішечка для подарунків	60

Технологічна карта

№ ПОР.	Технологічні операції (послідовність виконання)	Матеріали Інструменти, обладнання	Рисунок (фото) технологічної операції. Графічне зображення
1.			
2.			

Варіант 2 проведення II туру. В очному форматі (в містах і районах області, де учасники олімпіади мають змогу виконувати практичну роботу в умовах шкільної майстерні).

Виготовити за власним задумом та оздобити новорічний мішечок для подарунків. Розмір і форма виробу вибирається самостійно. Моделі-аналоги не копіювати.

